

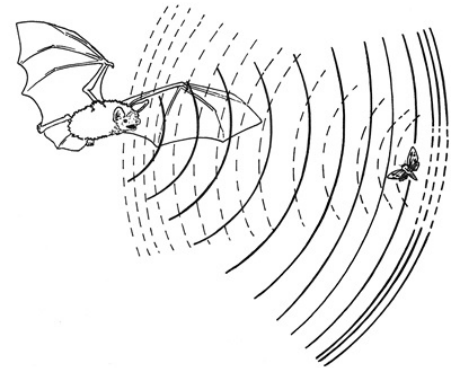
Ultraschallsensor - Eine Einführung

Benötigtes Material

- Arduino Uno
- USB-Kabel für den Arduino
- Ultraschallsensor (HC-SR04)
- 4x MW-Kabel

Beschreibung

Damit ein Roboter seine Umgebung wahrnehmen kann braucht er Sensoren. Es gibt verschiedene Arten von Sensoren. Wir wollen uns zunächst mit dem Ultraschallsensor beschäftigen. Er sendet und empfängt Schall und kann so erkennen, ob sich vor ihm Gegenstände befinden. Das funktioniert genauso wie bei Fledermäusen, die sich so in der Dunkelheit zurechtfinden!

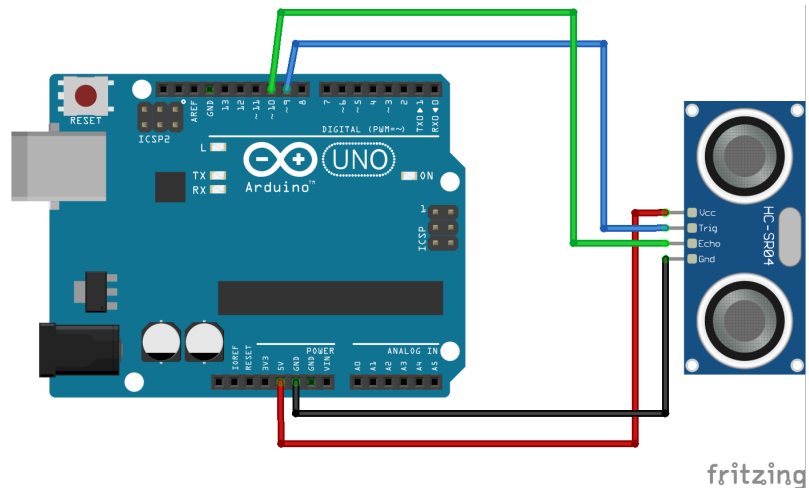


Der Ultraschallsensor besteht aus drei Hauptkomponenten

- Einem Lautsprecher (Trig), welcher Schall aussendet.
- Einem Mikrofon (Echo), welches den Schall empfängt.
- Einer Stromversorgung (Vcc und Gnd).

Verkabelung

Sensor	Arduino
Trig	9
Echo	10
Vcc	5V
Gcc	Gcc (Ground)



Code

Wir wollen unserem Arduino nun beibringen, eine LED in Pin 13 leuchten zu lassen, wenn ihm etwas zu nahe kommt. Wir verwenden dazu folgenden Code:

```
int trigPin = 9;
int echoPin = 10;
int ledPin = 13;

int zeit; // Hier speichern wir, wie lange der Schall unterwegs ist.
int abstand; // Hier speichern wir den gemessenen Abstand.
```

```
void setup() {
  pinMode(trigPin, OUTPUT);
  pinMode(echoPin, INPUT);
  pinMode(ledPin, OUTPUT);
}

void loop() {
  // Wir messen den Abstand zum nächsten Objekt.
  digitalWrite(trigPin, LOW); // Lautsprecher aus.
  delay(2);
  digitalWrite(trigPin, HIGH); // Lautsprecher gibt Ton aus.
  delay(10);
  digitalWrite(trigPin, LOW); // Lautsprecher aus.
  zeit = pulseIn(echoPin, HIGH); // Hier wird gemessen, wann das Mikrophon den
  // Ton hört.
  abstand = zeit * 0.034 / 2; // Umrechnung des Abstands von Zeit in
  // Zentimeter.

  if (abstand < 12) { // Wenn der Abstand kleiner als 12 Zentimeter ist.
    digitalWrite(ledPin, HIGH); // Schalte die LED an.
  } else { // sonst
    digitalWrite(ledPin, LOW); // Schalte die LED aus.
  }
}
```

Aufgaben

- ① **Probiere verschiedene Abstände aus! Wie zuverlässig arbeitet der Sensor auf längere und kürzere Distanzen?**

Antwort: _____

- ② **Was schätzt zu wie breit ist der Winkel, in dem die Sensoren gut arbeiten? Vergleiche das mit dem Winkel deiner Augen!**

Antwort: _____

- ③ **Was passiert, wenn du den else-Block weglässt? Kannst du dir einen Apparat vorstellen, bei dem so ein Verhalten gewünscht ist?**

Antwort: _____


- ④ **Programmiere ihn so, dass er Hindernissen ausweicht!**

Antwort: _____

- ⑤ **Welche Funktionen fallen dir ein, die man mit noch mit dem Ultraschallsensor umsetzen kann! Welche Funktionen kannst du mit mehr als einem Sensor umsetzen?**

Antwort: _____

- ⑥ **Wie viele Sensoren wären nötig, damit der Roboter deiner Hand folgt, wenn du sie vor ihm bewegst? Wie könnte ein Code aussehen, der das umsetzt?**



Das Material und dessen Inhalte sind - sofern nicht anders angegeben - lizenziert unter der Creative Commons Lizenz CC BY-NC-SA 4.0 (für den vollständigen Lizenztext siehe <https://creativecommons.org/licenses/by-sa/4.0/legalcode>)

